


關卡九、加 2

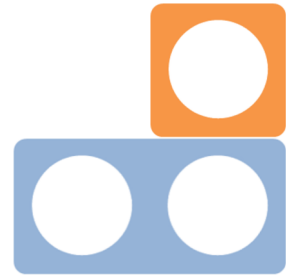
試用眼睛辨認下列圖樣(不要數)，然後從附頁選出合適的形狀牌答案，並完全覆蓋在圖樣上面及填寫答案。

1



$$4 + 2 = \square$$

2



$$1 + 2 = \square$$

按「加2」的邏輯，試試推論答案吧!

3

$$1 + 2 = 3$$


$$3 + 2 = 5$$

$$5 + 2 = \square$$

$$7 + 2 = \square$$

請在3/10/2019或之前繳交。

附頁:



附頁:

