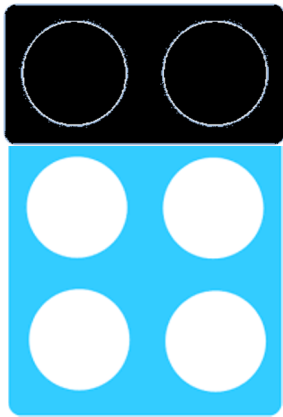


關卡十、減 2


試用眼睛辨認下列圖樣(不要數洞)，然後從附頁選出合適的形狀牌，並完全覆蓋在圖樣上面及填寫答案。

1



$$6 - 2 = \square$$

2



$$3 - 2 = \square$$

按「減2」的邏輯，試試推論答案吧!

3

$$9 - 2 = 7$$


$$7 - 2 = 5$$

$$5 - 2 = \square$$

$$3 - 2 = \square$$

請在10/10/2019或之前繳交。

附頁:



附頁:

